

Errata Corrige¹
Errata Corrige (Ristampa 2021)

Pagina 230

Problema 9.2 - Domanda 1

stato iniziale	stato finale
$\left\{ \begin{array}{l} T_0 = T_a = 300 \text{ K} \\ p_0 = p_e = p_a - 2 \frac{mg}{A} = 49 \times 10^3 \text{ N/m}^2 \\ V_0 = \frac{nRT_0}{p_0} = 0.1018 \text{ m}^3 \end{array} \right.$	$\left\{ \begin{array}{l} T_1 = T_0 = 300 \text{ K} \\ p_1 = p'_e = p_a - \frac{mg}{A} = 75.2 \times 10^3 \text{ N/m}^2 \\ V_1 = \frac{nRT_1}{p_1} = 0.0663 \text{ m}^3 \end{array} \right.$

Problema 9.2 - Domanda 2

$$Q = W = \int_{V_0}^{V_1} p'_e dV = p_1 (V_1 - V_0) = -2666 \text{ J}$$

$$Q = W \neq \int_{V_0}^{V_1} p dV = nRT_0 \ln \frac{V_1}{V_0} = -2136 \text{ J}$$

¹In rosso le modifiche da apportare al testo stampato

Le correzioni sono progressive: quelle di ristampe successive vanno applicate anche alle ristampe precedenti

Errata Corrige (Ristampe 2017 e 2018)

Pagina 73

Problema 2.28 - Testo

3) la potenza del motore per rompere la barra dopo $n = 3$ giri \mathcal{P}_m

Pagina 74

Problema 2.28 - Domanda 3

Dopo il calcolo di W sostituire con quanto segue fino alla fine

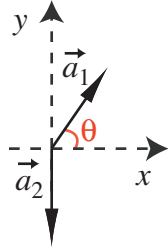
La forza d'attrito e il momento esercitato dal motore sono costanti, per cui è ancora costante l'accelerazione angolare del sistema, e, ripetendo il calcolo del punto 1, la rottura avviene all'istante

$$t'_r = \frac{2\theta_r}{\omega_r} = \frac{4\pi n}{\omega_r}$$

Il lavoro deve essere prodotto nel tempo t_r per cui la potenza sviluppata dal motore deve essere

$$\mathcal{P} = \frac{W}{t'_r} = \frac{W\omega_r}{4\pi n} = 2.88 \text{ W}$$

Pagina 81

Problema 3.2 - Figura

Pagina 83

Problema 3.3 - Domanda 2**Riga 3**

$$T_1 = m_1 (g + a) = 27.3 \text{ N}$$

Riga 7

$$T_2 = (m_1 + m_2)(g + a) = 68.3 \text{ N}$$

Pagine 101 e segg.

Problema 4.5 - Domande 1 e 2

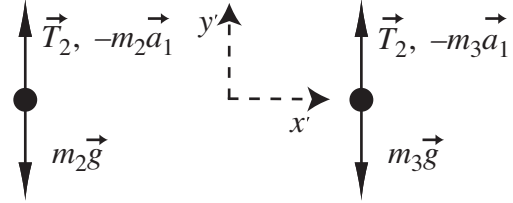
Sostituire la soluzione con la seguente

1) La massa del corpo m_1 è nettamente inferiore a quella del sistema m_2-m_3 , per cui m_1 sale lungo il piano inclinato, mentre il sistema scende.

L'accelerazione \bar{a}_1 di m_1 è la stessa del centro della carrucola. Quindi il sistema di riferimento relativo (x', y') , fissato alla carrucola che sostiene il sistema m_2-m_3 , è accelerato con accelerazione \bar{a}_1 diretta verso il basso. Un osservatore solidale a questo sistema vede m_2 salire e m_3 scendere con accelerazioni eguali e opposte $\bar{a}'_3 = -\bar{a}'_2$, ma

deve tenere conto delle forze d'inerzia apparenti $-m_2\vec{a}_1$ e $-m_3\vec{a}_1$ dovute allo stato di moto accelerato del sistema di riferimento, agenti rispettivamente su m_2 e m_3 con verso opposto ad \vec{a}_1 . Le equazioni del moto dei due corpi nel sistema relativo sono pertanto

$$\begin{cases} \vec{T}_2 + m_2\vec{g} - m_2\vec{a}_1 = m_2\vec{a}'_2 \\ \vec{T}_2 + m_3\vec{g} - m_3\vec{a}_1 = m_3\vec{a}'_3 \end{cases}$$



le cui componenti y' sono

$$\begin{cases} T_2 - m_2g + m_2a_1 = m_2a'_2 \\ T_2 - m_3g + m_3a_1 = -m_3a'_2 \end{cases}$$

dove a_1 e a'_2 sono i moduli delle accelerazioni. Sottraendo membro a membro le due equazioni si ottiene

$$(m_2 - m_3)a_1 - (m_2 - m_3)g = (m_2 + m_3)a'_2$$

per cui il modulo dell'accelerazione relativa di m_2 e m_3 è

$$a'_2 = \frac{(m_2 - m_3)a_1 - (m_2 - m_3)g}{m_2 + m_3}$$

che, sostituita nella prima equazione,

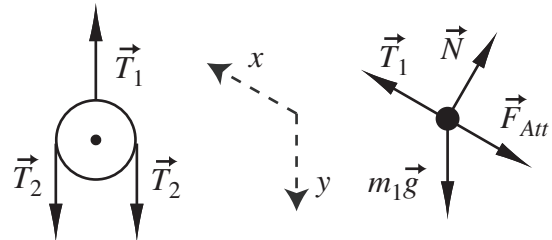
$$T_2 - m_2g + m_2a_1 = m_2 \frac{(m_2 - m_3)a_1 - (m_2 - m_3)g}{m_2 + m_3}$$

porge la tensione del filo

$$T_2 = \frac{2m_2m_3}{m_2 + m_3}g - \frac{2m_2m_3}{m_2 + m_3}a_1$$

Le equazioni del moto del corpo m_1 e della carrucola, di massa nulla, lungo la loro rispettiva direzione di moto nel sistema assoluto sono

$$\begin{cases} T_1 - m_1g \sin \theta - \mu m_1g \cos \theta = m_1a_1 \\ -T_1 + T_2 + T_2 = 0 \end{cases}$$



da cui otteniamo l'equazione

$$2T_2 - m_1g(\sin \theta + \mu \cos \theta) = m_1a_1$$

dove, sostituendo l'espressione di T_2 ,

$$\frac{4m_2m_3}{m_2 + m_3}g - \frac{4m_2m_3}{m_2 + m_3}a_1 - m_1g(\sin \theta + \mu \cos \theta) = m_1a_1$$

si ricava

$$a_1 = \frac{4m_2m_3 - m_1(m_2 + m_3)(\sin \theta + \mu \cos \theta)}{4m_2m_3 + m_1(m_2 + m_3)}g = 4.98 \text{ m/s}^2$$

2) L'accelerazione del sistema relativo è \vec{a}_1 per cui la legge di trasformazione delle accelerazioni fra sistemi in moto relativo traslatorio applicata a m_2 , $\vec{a}_2 = \vec{a}'_2 + \vec{a}_1$, osservando che tutte le accelerazioni sono verticali, porge

$$a_2 = a'_2 - a_1 = \frac{(m_2 - m_3)a_1 - (m_2 - m_3)g}{m_2 + m_3} - a_1 = -4.01 \text{ m/s}^2$$

verso il basso.

Problema 5.4 - Domanda 2**Riga 1**

$$\vec{a}_G = \alpha \frac{d}{2} \vec{u}_T + \omega_0^2 \frac{d}{2} \vec{u}_N$$

Pagina 214

Problema 8.4 - Domanda 5**Riga 16**

$$W_{Arch} + W_{att} = \Delta E_p + \Delta E_c = [m_2 g \ell - m_1 g \ell \sin \theta] + \left[\frac{1}{2} (m_1 + m_2) v_2^2 - \frac{1}{2} (m_1 + m_2) v_1^2 \right]$$

Riga 22

$$\rho_a g A \frac{\ell^2}{2} - \mu m_1 g \ell = g \ell (m_2 - m_1 \sin \theta) + \frac{1}{2} (m_1 + m_2) (v_2^2 - v_1^2)$$

Riga 24

$$v_2 = \sqrt{v_1^2 + \frac{\rho_a g A \ell^2 - 2 g \ell (m_2 - m_1 \sin \theta + \mu m_1)}{m_1 + m_2}} = 0.76 \text{ m/s}$$

pag 115 riga 5

$$\begin{aligned} W_{PQ} &= -k \left[\int_{x_P}^{x_Q} (x - x_0) dx - \int_{y_P}^{y_Q} (y - y_0) dy - \int_{z_P}^{z_Q} (z - z_0) dz \right] = \\ &= -\frac{k}{2} \left[(x - x_0)^2 \Big|_{x_P}^{x_Q} - (y - y_0)^2 \Big|_{y_P}^{y_Q} - (z - z_0)^2 \Big|_{z_P}^{z_Q} \right] = \\ &= -\frac{k}{2} \left[(x_Q - x_0)^2 + (y_Q - y_0)^2 + (z_Q - z_0)^2 \right] + \frac{k}{2} \left[(x_P - x_0)^2 + (y_P - y_0)^2 + (z_P - z_0)^2 \right] = \\ &= -\frac{1}{2} k \Delta \ell^2 (Q) + \frac{1}{2} k \Delta \ell^2 (P) \end{aligned}$$

Errata Corrige (Ristampa del 2016 e precedenti)

Pagina 30

Problema 1.15 - testo

... decelerato con accelerazione angolare $\alpha = -kt$, con $k = 0.1 \text{ s}^{-3}$; ...

Pagina 45

Problema 2.6 - Domanda 1

...è presente la forza d'attrito alla quale non si può associare un'energia potenziale. ...

Pagina 99

Problema 4.3 - Domanda 3

$$-\mu m_2 g - m_2 a_1 = m a'_2 \Rightarrow a'_2 = -\mu g - a_1 = -0.74 \text{ m/s}^2$$

Pagina 112

Problema 5.1 - Domanda 3

$$\frac{1}{2} I_O \omega^2 - (m_A + m_B) g r_G = 0$$

Pagina 128

Problema 5.11 - Domanda 1

$$\begin{cases} T \cos \theta - mg = m a_y = 0 \\ -T \sin \theta = m a_N = -m \omega^2 R = -m \omega^2 \ell \sin \theta \end{cases}$$

Pagina 164-165

Problema 6.6 - Domanda 2

$$\begin{cases} x_1 = |v_1| t \\ x_2 = x_1 + 2d = v_2 t \end{cases}$$

che porgono

$$|v_1| t + 2d = v_2 t \Rightarrow t = \frac{2d}{v_2 - |v_1|} = 10.5 \text{ s}$$

Cancellare il resto della risposta: è corretto, ma la velocità relativa è diversa da v'_2 del testo del problema, perché si inverte il moto della lancia.

Pagina 177

Problema 6.15 - Domanda 1

$$m R_A v_A + m R_B v_B + I_P \omega = 2 m R_B v' + I_P \omega'$$

$$\omega' = \frac{m R_A v_A + m R_B v_B + I_P \omega}{2 m R_B^2 + I_P} = 11.9 \text{ rad/s}$$

Pagina 202

Problema 7.3

$$\Delta E_c + \Delta E_p = \left(0 - \frac{1}{2}mv^2\right) + \left(0 + \mathcal{G} \frac{mM_T}{r}\right) = 0$$

Pagina 209

Problema 8.1

Cancellare “aggiunte figure” dopo il numero del problema (sic!)..

Pagina 230

Problema 9.2 - Domanda 2

$$Q = W = \int_{V_0}^{V_1} p_e' dV = p_1 (V_1 - V_0) = -2707 \text{ J}$$

Pagina 246

Problema 9.2 - Domanda 1

$$\begin{cases} T_A = 310 \text{ K} \\ V_A = S(\ell_0 + \Delta\ell_1) = 13.5 \times 10^{-3} \text{ m}^3 \\ p_A = p_0 + \frac{mg}{S} + \frac{k\Delta\ell_1}{S} = 139.5 \times 10^3 \text{ N/m}^2 \end{cases}$$

Pagina 281

Problema 11.2 - Testo

(seconda riga)... e pressione $p_0 > 1.2 \text{ atm}$ è ...

(settima riga)... si spezza nel momento in cui si ristabilisce l'equilibrio termico e si

Problema 11.2 - Domanda 2)

... del gas è $p_0 > 1.2 \text{ atm} \sim 1.21 \times 10^5 \text{ N/m}^2$,